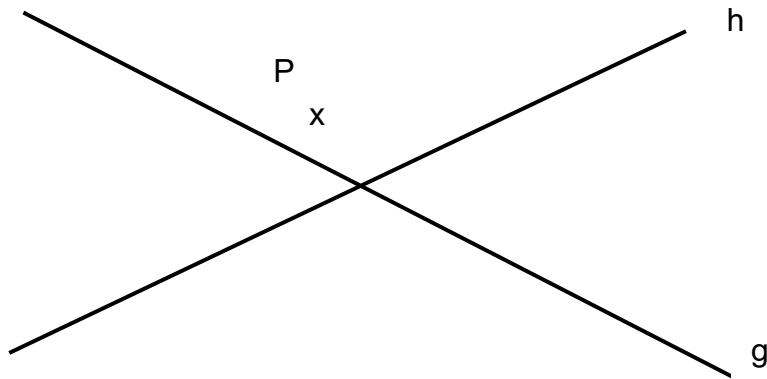
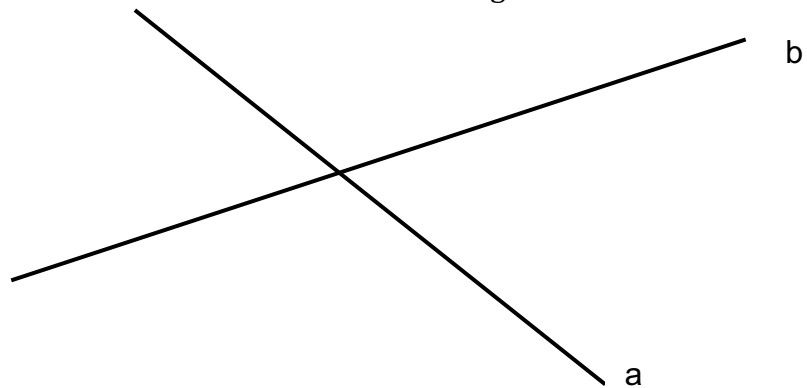


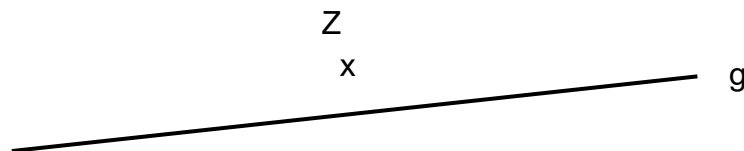
1. Konstruiere alle Punkte die von g und h gleich weit entfernt sind und von P höchstens 2cm Abstand haben.



2. Konstruiere alle Punkte die näher bei a als bei b liegen.



3. Konstruiere alle Punkte die von g weniger als 1,7cm und von Z mehr als 2,5cm Abstand haben.



4. Konstruiere alle Punkte die näher bei g als bei h liegen, aber doch mindestens 0,7cm Abstand von g haben.

