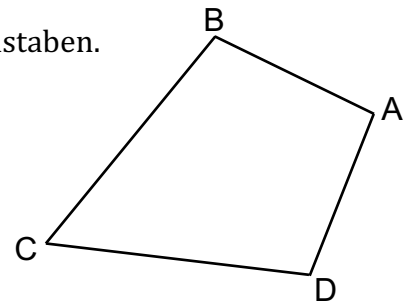


1. Bez

Winkel

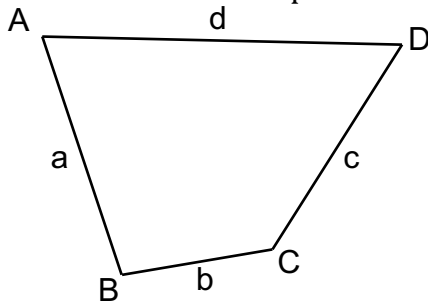
AB 2

1. Benenne die Winkel mit den richtigen griechischen Buchstaben.



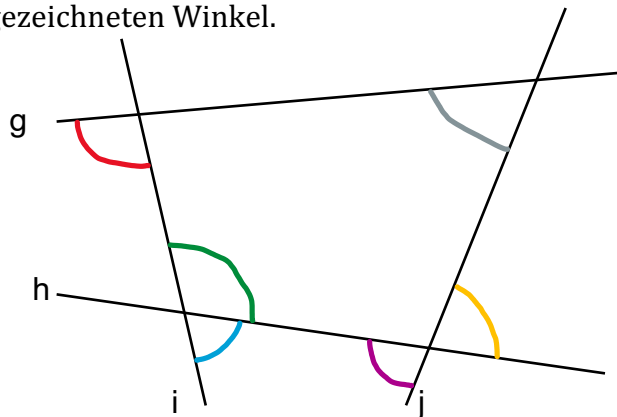
2. Zeichne die Winkel in den entsprechenden Farben ein.

- $\sphericalangle bc$
- $\sphericalangle ad$
- $\sphericalangle dc$
- $\sphericalangle ab$
- $\sphericalangle cd$



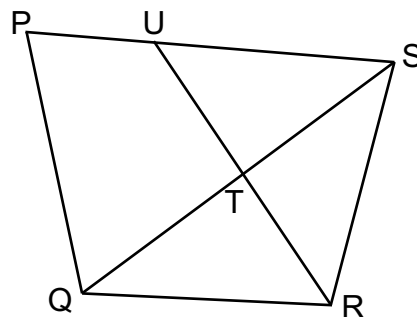
3. Benenne die eingezeichneten Winkel.

- \sphericalangle
- \sphericalangle
- \sphericalangle
- \sphericalangle
- \sphericalangle
- \sphericalangle



4. Zeichne die Winkel in den entsprechenden Farben ein.

- $\sphericalangle QTR$
- $\sphericalangle RTU$
- $\sphericalangle TUS$
- $\sphericalangle UPQ$
- $\sphericalangle PQS$
- $\sphericalangle SRQ$



5. Benenne die eingezeichneten Winkel.

- \sphericalangle
- \sphericalangle
- \sphericalangle
- \sphericalangle
- \sphericalangle
- \sphericalangle

