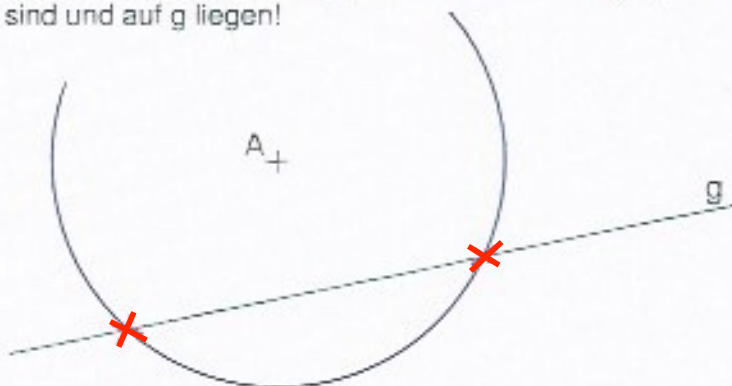


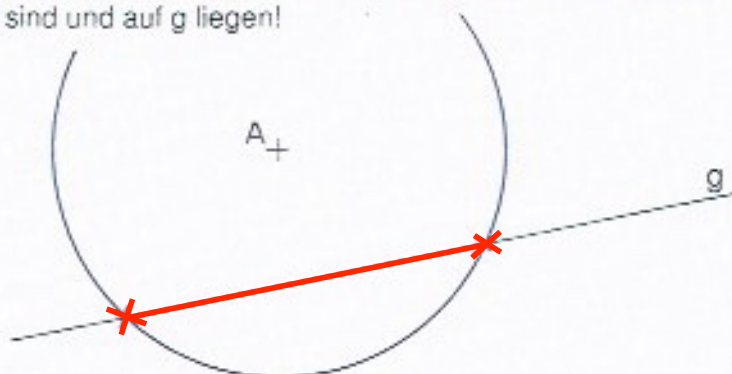
## Ortsbereiche richtig eintragen

### Aufgaben:

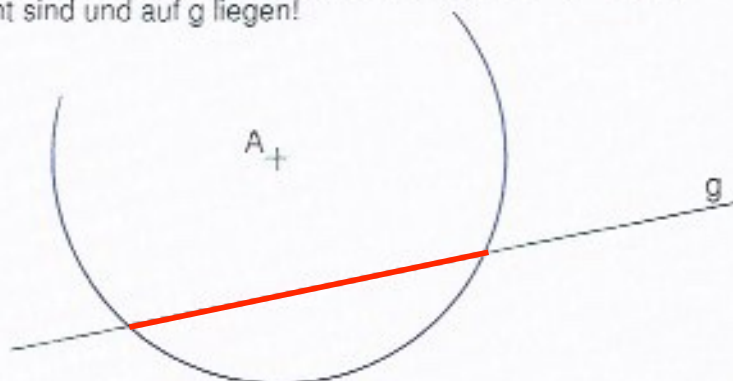
- 1 Zeichne den Bereich rot ein, in welchem alle Punkte liegen, die von A **genau** 3 cm entfernt sind und auf g liegen!



- 2 Zeichne den Bereich rot ein, in welchem alle Punkte liegen, die von A **höchstens** 3 cm entfernt sind und auf g liegen!



- 3 Zeichne den Bereich rot ein, in welchem alle Punkte liegen, die von A **weniger als** 3 cm entfernt sind und auf g liegen!



x PUNKTE DIE ZUR  
LÖSUNG GEHÖREN