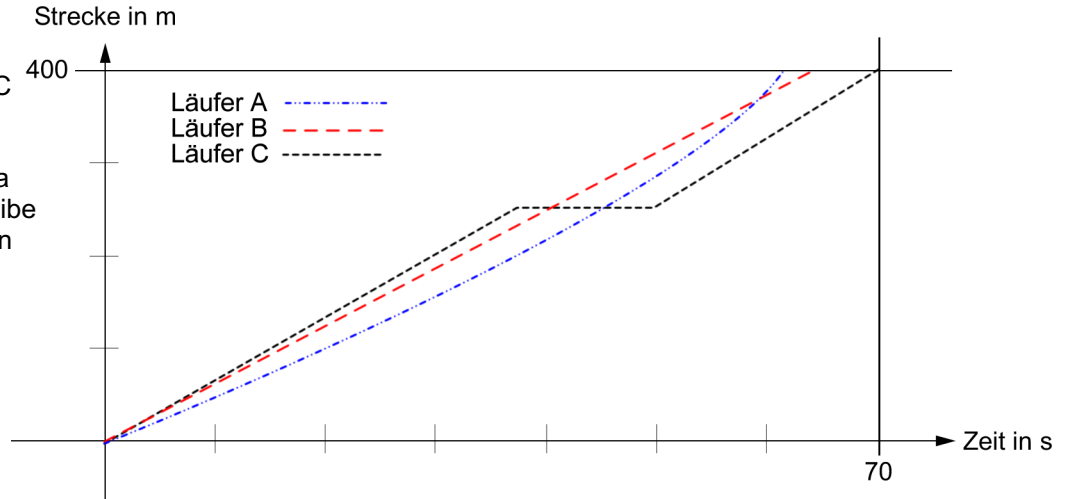


1. Bez

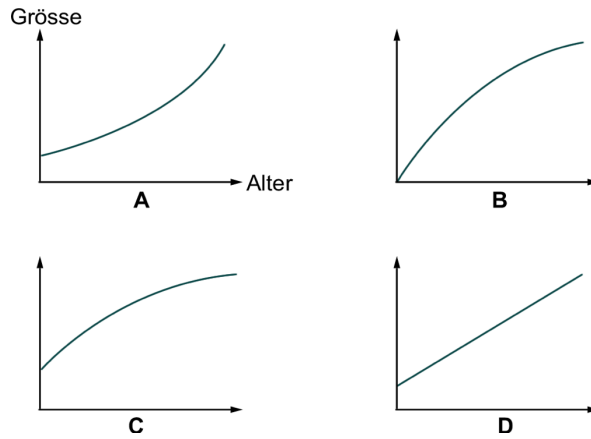
Wasserstand

AB 14

1. Drei Läufer A, B und C bestreiten ein Rennen über 400 m Hürden. Das Diagramm stellt etwa den Verlauf dar. Beschreibe den Rennverlauf für jeden Läufer.



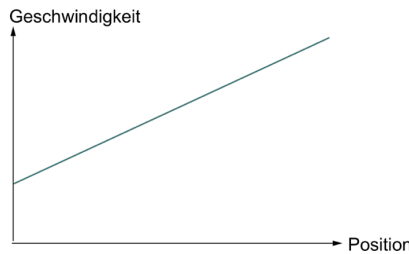
2. Welches Diagramm gibt die Körpergrösse von 0–18 Jahren etwa korrekt an?



3. Längs einer Strasse wird die Geschwindigkeit eines Autos alle 10 m ermittelt und dann grafisch dargestellt.

Welche Aussagen sind korrekt?

- A Es geht dauernd aufwärts.
- B Das Fahrzeug wird immer schneller.
- C Die Geschwindigkeit wächst dauernd.
- D Das Fahrzeug beschleunigt dauernd.



4. Alle Gefässe sind gleich hoch und fassen gleich viel. Welcher Graph passt zu welchem Gefäss? Skizziere auch für die übrigen Gefässe einen Füllgraphen.

