







a	 y	III =  x x x	3 $y = 3x$	B					
				x	0	1	2	3	4
				y	0	3	6	9	12
b	 x	I =  y	1 $x = y + 3$	A					
				x	3	4	5	6	7
				y	0	1	2	3	4
c	 x	II =  y	2 $x + 3 = y$	C					
				x	0	1	2	3	4
				y	3	4	5	6	7