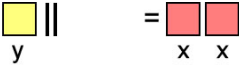
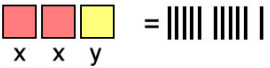


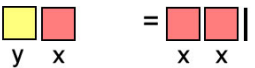
1. Bez

Gleichungen

Lösungen AB 5

	$y + 2 = 2x$	x	1	2	3	4	In der gelben Box sind zwei Hölzchen weniger als in zwei roten zusammen.
		y	0	2	4	6	

	$2x + y = 11$	x	1	2	3	4	In zwei roten und einer gelben Box zusammen liegen 11 Hölzchen.
		y	9	7	5	3	

	$x + y = 2x + 1$	x	0	1	2	3	In einer roten und einer gelben Box zusammen liegt ein Hölzchen mehr als in zwei roten.
		y	1	2	3	4	