

1. Bez

Gleichungen

AB 3

Jeweils eine Gleichung, eine Tabelle und eine Boxendarstellung beschreiben die gleiche Situation. Welche gehören zusammen?









- 1 $x + y = 2x + 1$
- 2 $y = 2x + 1$
- 3 $x = 2y + 1$
- 4 $x + y = x + 1$

A	x	0	1	2	3	4
	y	1	3	5	7	9

B	x	1	3	5	7	9
	y	0	1	2	3	4

C	$y = 1$					
----------	---------	--	--	--	--	--

D	x	0	1	2	3	4
	y	1	2	3	4	5

I	 x	=	 y y
II	 x y	=	 x x
III	 x y	=	 x
IV	 y	=	 x x