

Winkel bezeichnet man häufig mit den griechischen Buchstaben. Übe die Schreibweise!

Alpha: α _____

Beta: β _____

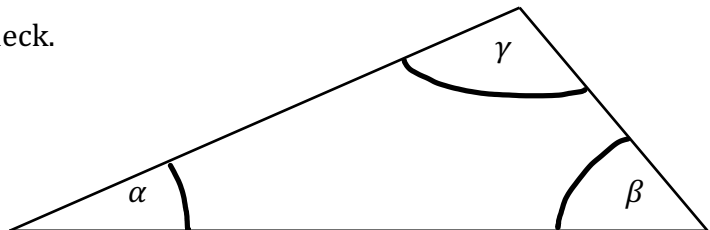
Gamma: γ _____

Delta: δ _____

Epsilon: ε _____

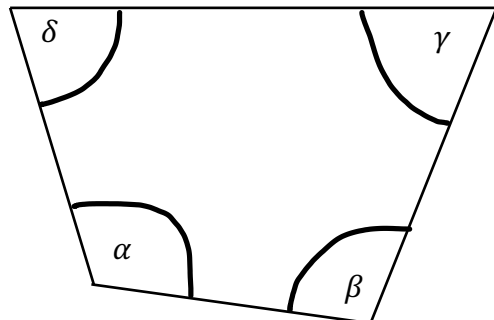
1. Miss die Grösse der Winkel im Dreieck.

α _____
 β _____
 γ _____



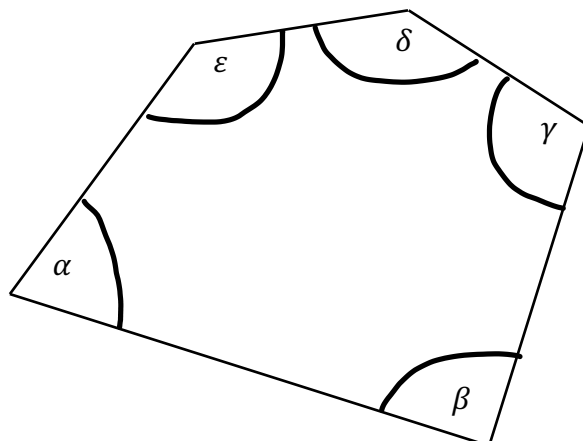
2. Miss die Grösse der Winkel im Viereck.

α _____
 β _____
 γ _____
 δ _____



3. Miss die Grösse der Winkel im Fünfeck.

α _____
 β _____
 γ _____
 δ _____
 ε _____



4. Berechne die Winkelsumme eines...

- a) Dreiecks _____
- b) Vierecks _____
- c) Fünfecks _____
- d) Sechsecks _____